



nombre

curso

fecha

ACTIVIDADES: COMPARACIÓN Y ORDEN DE NÚMEROS MENORES A 1000

1. Encierra con un círculo azul los números mayores que 150 y con un círculo rojo los números menores que 150:

- | | | | | | | |
|-----|-----|-----|-----|-----|-----|-----|
| 145 | 65 | 178 | 56 | 132 | 169 | 89 |
| 200 | 160 | 110 | 138 | 10 | 28 | 152 |
| 146 | 134 | 99 | 167 | 77 | 123 | 45 |

2. Ponle precio a cada artículo según lo que se indica:



Trapero
\$
Entre 500 y 750



Basurero
\$
Entre 400 y 900



Arbolito
\$
Entre 800 y 1000



Cuaderno de papel reciclado
\$
Entre 400 y 600

3. Escribe un número según corresponda:

286 es menor que.....

567 es mayor que.....

846 es igual que.....

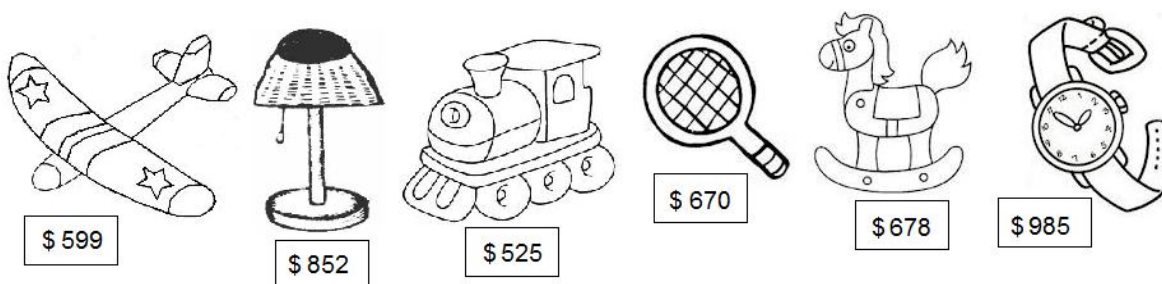
917 es menor que.....



4. Escribe dos números distintos que puedas formar con los siguientes dígitos. Luego ordénalos de mayor a menor:

<div style="border: 1px solid black; padding: 5px; display: inline-block; margin-bottom: 5px;">2, 5 y 6</div> <div style="border: 1px solid black; width: 100%; height: 40px; margin-top: 10px;"> <p style="text-align: center;">..... y</p> </div> <p style="text-align: center;">..... ></p>	<div style="border: 1px solid black; padding: 5px; display: inline-block; margin-bottom: 5px;">4, 7 y 8</div> <div style="border: 1px solid black; width: 100%; height: 40px; margin-top: 10px;"> <p style="text-align: center;">..... y</p> </div> <p style="text-align: center;">..... ></p>
---------------------------------------------------------------------------------------------------------------------------------------------------------------------------------------------------------------------------------------------------------------------------------------------------------------	---------------------------------------------------------------------------------------------------------------------------------------------------------------------------------------------------------------------------------------------------------------------------------------------------------------

5. En una fábrica de juguetes se muestran los siguientes objetos con su precio:





Ordena los precios de menor a mayor:

.....

6. Ordena los precios de menor a mayor:

\$ 853	\$ 586	\$ 489	\$ 512	\$ 857	\$ 453

7. Pinta al niño que tiene menos dinero:



8. Completa tal como se indica:

Escribe un número que esté antes de:



Escribe un número que esté después de:



Escribe un número que esté justo antes de:



Escribe un número que esté justo después de:



Escribe un número que esté entre:

