



## GUÍA DE ESTUDIO MATEMATICAS FICHA N° 21

CURSO: 1° A

Unidad N° 2

**Objetivo de aprendizaje:** -Contar números del 0 al 100, de 1 en 1, de 2 en 2, de 5 en 5 y de 10 en 10, hacia delante y hacia atrás, empezando por cualquier número menor que 100. (OA1)

**Contenido:** Números hasta el 100.-

**Habilidad:** Aplicar

**Evaluación:** Formativa:

**Instrucciones:** **Modalidad de trabajo. Considera la más adecuada para Ud.**


- Descargar, imprimir, resolver y pegar en el cuaderno.
- Trabajar en el cuaderno el contenido indicando el número de ficha que se está trabajando.**

**Fecha:** Lunes , 18 de mayo de 2020

## NÚMEROS HASTA EL 50

Observa y responde



• ¿Cuántas bolitas ha contado  ?

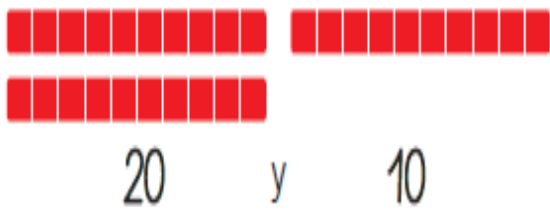
• ¿Cuántas bolitas le falta contar?

• ¿Qué número va después del 19?

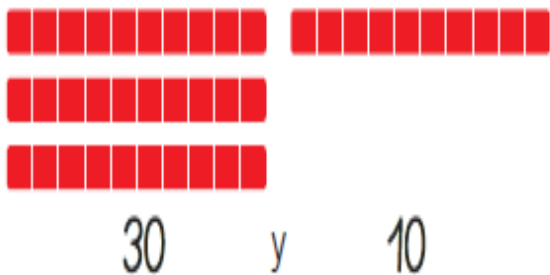
¡ESTOY  
APRENDIENDO!



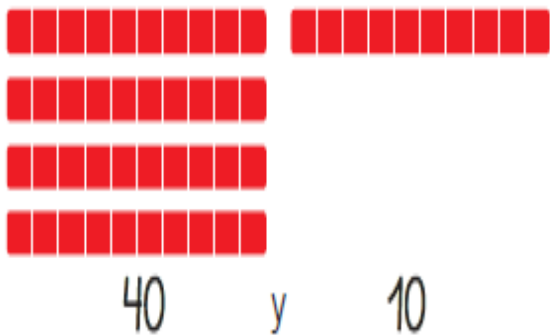
20 veinte



30 treinta



40 cuarenta



50 cincuenta

Ya sabes contar con los números hasta el 20. Ahora sigue contando con los nuevos números que has aprendido.



1.- Cuenta los círculos y escribe el número que corresponda.

Puedes tachar los elementos al contarlos.



a.

c.

b.

d.

¿Sabías que ...?

**Hay números pares y números impares**

- Los números **pares** pueden formar dos grupos con **igual** cantidad de elementos. Terminan en 0, 2, 4, 6 y 8.
- Los números **impares** pueden formar dos grupos con **distinta** cantidad de elementos. Terminan en 1, 3, 5, 7 y 9.

**Lo importante es hacer tu mejor esfuerzo.**

