



GUÍA DE ESTUDIO
MATEMATICAS
FICHA N° 33

CURSO: 1° A

Unidad: Nivel 1

Objetivo de aprendizaje:- Demostrar que comprende la adición y la sustracción de números de 0 a 20 progresivamente de 0 a 5, de 6 a 10, de 11 a 20 con dos sumandos (OA 9)

Contenido: Adición y sustracción

Habilidad: Reconocer – comprender - aplicar

Evaluación: Formativa:


Instrucciones: **Modalidad de trabajo. Considera la más adecuada para Ud.**



- a) Descargar, imprimir, resolver y pegar en el cuaderno.
- b) Trabajar en el cuaderno el contenido indicando el número de ficha que se está trabajando.


Fecha: 22-6-2020

¡Estoy juntando y quitando!

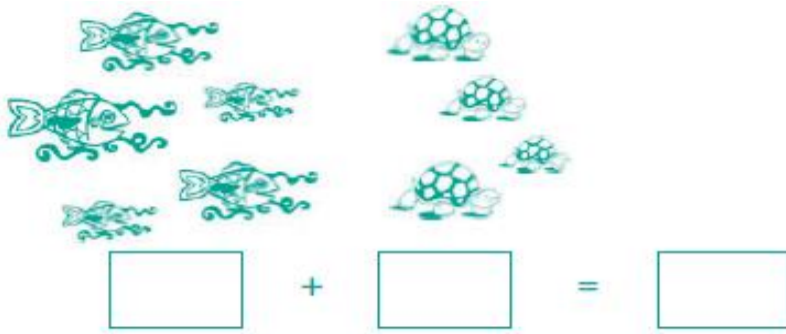
1.-Observa las orejas de los conejos y completa



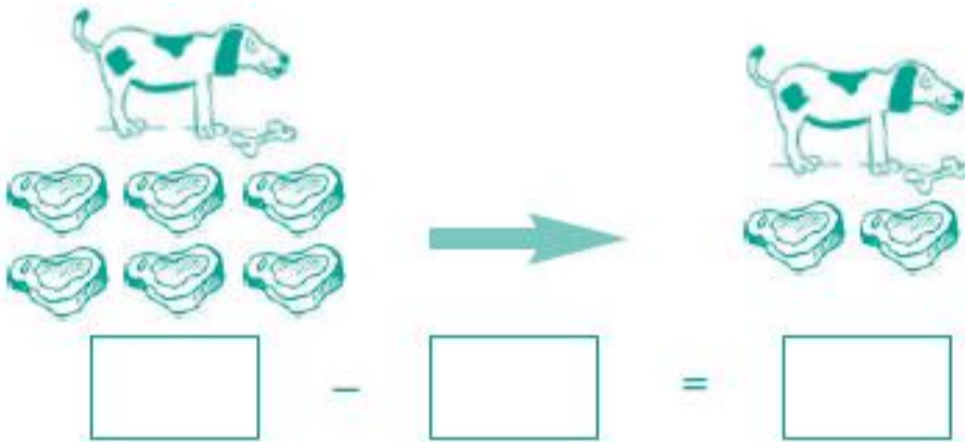
Hay  → Hay  →

Hay  →


2.-Estoy sumando.



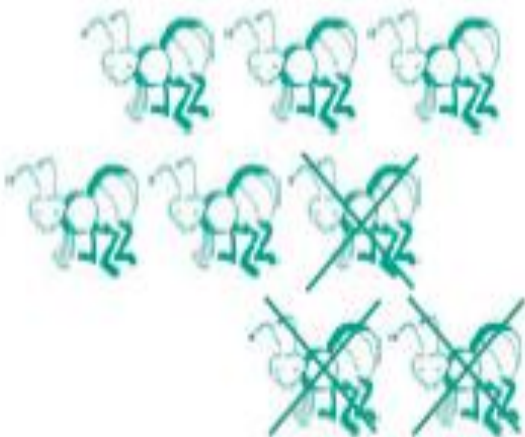
3.- ¿Cuántos chuletones se ha comido el perro? Estoy quitando



4.- Mira los dibujos y completa las restas. Recuerda estoy quitando.



$$5 - \square = \square$$



$$\square - \square = \square$$



