

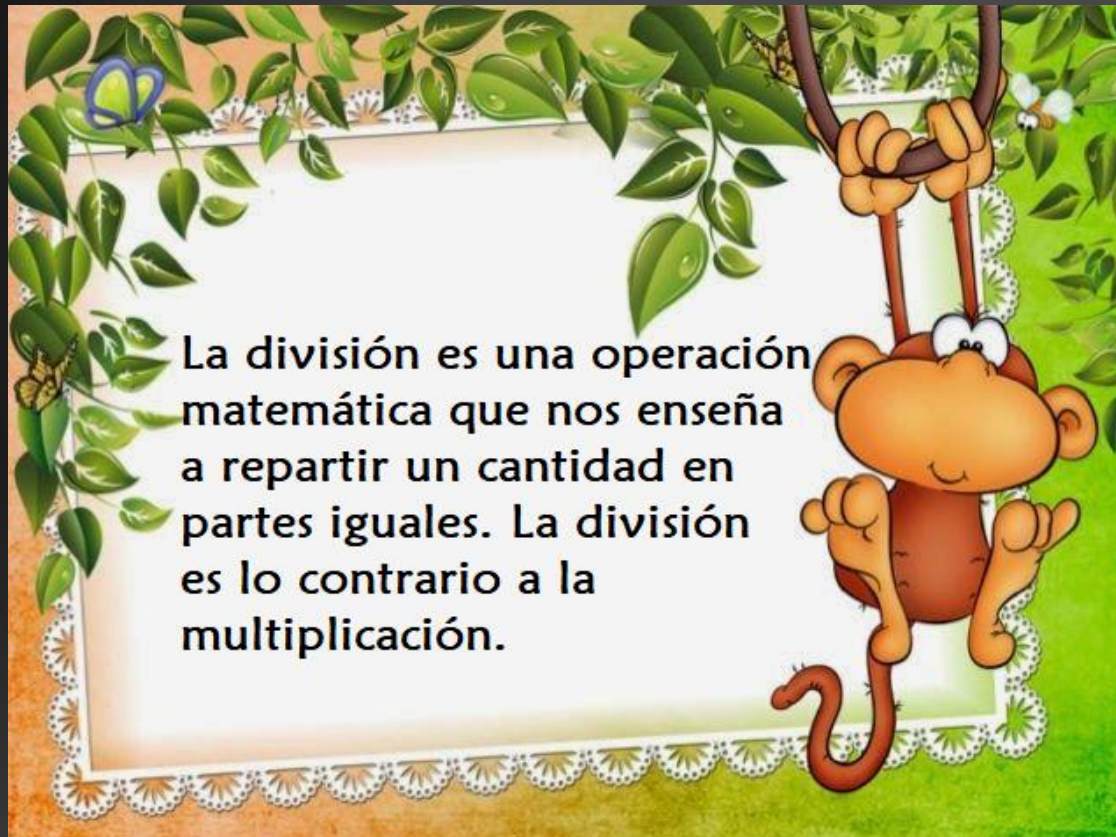
# Divisiones



ED. DIFERENCIAL: VALERIA SOTO A.

CURSO: 5° BÁSICO

# RECORDEMOS: ¿QUÉ ES UNA DIVISIÓN?



La división es una operación matemática que nos enseña a repartir un cantidad en partes iguales. La división es lo contrario a la multiplicación.



## EJEMPLO 1:

2. Camilo tiene 81 globos para repartir entre sus 9 hijas. ¿De a cuántos le toca a cada una?



Rta: / A cada uno le corresponde de a:

\_\_\_\_\_



¿Qué hago aquí?

$$81 : 9 = 9$$

Para esto es imprescindible saber las tablas de multiplicar !! Puedo realizar 2 preguntas:

- ¿Cuántas veces cabe el 9 en el 81?      o
- ¿Qué número multiplicado por 9 me da 81?

## EJEMPLO 2:

### Aprendo

Objetivo: Dividir reagrupando centenas, decenas y unidades.

► Juan plantará algunas semillas de lechugas en los siguientes cajones.

Tengo 534 semillas y las repartiré en igual cantidad en estos cajones.



¿Cuántas semillas plantará en cada cajón?

La cantidad de semillas que se plantarán en cada cajón la puedes calcular como  $534 : 2$ .

$$534 : 2 = ?$$

Y ahora, ¿qué hago?



$$534 : 2 = 267$$

$$\begin{array}{r} -4 \\ 13 \\ -12 \\ 14 \\ -14 \\ 0 \end{array}$$



Observa el siguiente video en dónde se explica el mismo ejercicio pero con la estrategia de descomposición: <https://www.youtube.com/watch?v=VZchdCd7PGc>

# PROBLEMAS RUTINARIOS

## RESUELVE EN TU CUADERNO

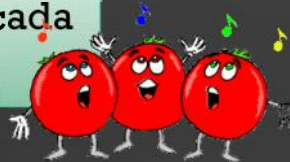


En una librería llegaron 528 libros repartidos en 3 cajas. ¿Cuántos libros hay por caja? ¿Quedaron libros sueltos?



Un tren ha recorrido 720 kilómetros en 9 horas. ¿Cuál es su velocidad promedio por hora?

En la frutería hay 641 tomates repartidos en 6 cajas. ¿Cuántos tomates hay en cada caja? ¿Sobran tomates?



En el barrio de Pedro se reunieron 439 pelotas de futbol para repartir entre 5 equipos. ¿Cuántas pelotas recibe cada equipo? ¿Sobra alguna?















Desarrolla los siguientes ejercicios y diviértete averiguando sobre nuestro cuerpo humano.


# ¡¡ DESAFÍO !!

**DIVISIÓN** <sup>ABN</sup> Averigua el nombre de estos huesos del cuerpo humano resolviendo las divisiones y buscando el cociente abajo.

autor pedagógico: Sergio Palco  
Procedencia: ARASAAC, catedu.es/arsaac CC BY-NC-SA

 Mueven el cuerpo	 Estos músculos son:	 Estos músculos son:	 Estos músculos son:
: 9	: 8	: 7	: 6
972	968	973	972
R =	R =	R =	R =
 Estos músculos son:	 Estos músculos son:	 Estos músculos son:	 Estos músculos son:
: 5	: 4	: 3	: 2
975	972	975	974
R =	R =	R =	R =
 Estos músculos son:	 Estos músculos son:	 El que une el músculo al hueso es el	 Unen los huesos en las articulaciones
: 8	: 6	: 4	: 2
768	768	768	768
R =	R =	R =	R =

128 DORSALES    243 ABDOMINALES    121 TRÍCEPS    108 MÚSCULOS  
384 LIGAMENTOS    195 PECTORALES    139 BÍCEPS    162 TRAPECIO  
96 GEMELOS    487 CUÁDRICEPS    325 GLÚTEOS    192 TENDÓN

 CURRÍCULO EN LÍNEA

Encuentra la ficha de trabajo en formato PDF entre el material subido a la página de Facebook.

TÚ  
PUEDES

(SOLO QUERIA RECORDÁRTELO)

