



Matemática
Prof. Marcela González S.
Educatora Diferencial: Valeria Soto A.

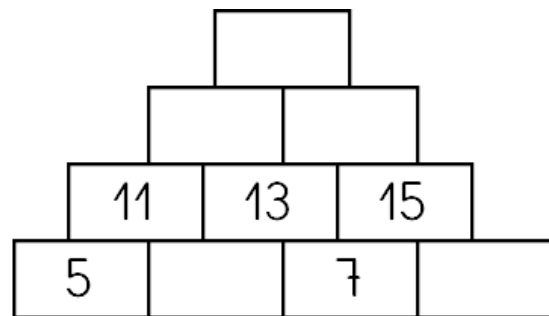
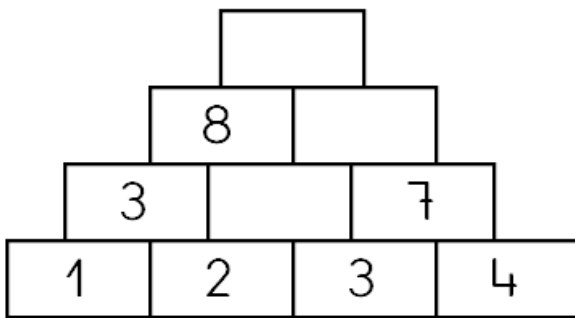
Guía de Estudio N°13
4° Básico Matemática

"Números y formas en el entorno"

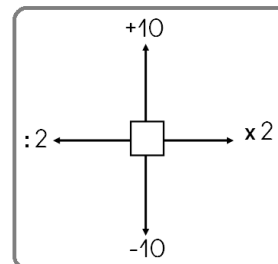
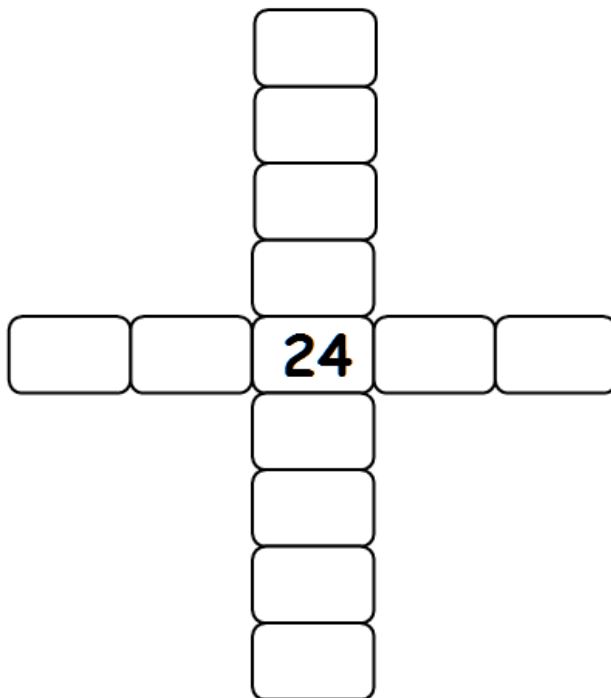
Objetivo(s) de la Clase:

- Aplicar estrategias de cálculo mental y explicarlas
- Resolver situaciones de reparto y explica la solución.

1. Encuentra la regla y completa los casilleros de las pirámides. Luego explica cómo lo completaste:



2. Sigue la siguiente clave y completa los casilleros:





Matemática

Prof. Marcela González S.


Educadora Diferencial: Valeria Soto A.

3. Resuelve las siguientes situaciones con tu material y representa aquí tu trabajo:

a) Paula tiene que repartir 66 cupcakes en cajitas, en cada cajita puede colocar 6 cupcakes ¿Cuántas cajas podrá llenar?




b) También hay pedidos que vienen en cajas para 4 cupcakes. Tuvo un pedido de 52 cupcakes de los Minions ¿Cuántas cajas podrá llenar?





Matemática
Prof. Marcela González S.

c) Paula tuvo un gran pedido de cupcakes de Starwars, 96 distribuida en cajas de 6 cupcakes cada una ¿Cuántas cajas podrá completar?



d) Par un cumpleaños, encargaron cupcakes de Peppa Pig, 88 cupcakes distribuidos en cajas de 4 ¿Cuántas cajas le encargaron?

