



Guía de Historia

OA: Clasificar y caracterizar algunos elementos de paisajes y relieves de Chile, demostrando un trabajo riguroso y perseverante.



Queridos niños(as) y estimados apoderados: Este documento es una guía para que puedan trabajar en sus hogares. Deben imprimir o solicitar las impresiones a la profesora. Al terminar estas tareas deben pegar las guías en el cuaderno. Antes de comenzar a trabajar observa el video y Power Point que te envíe, es muy importante que lo veas así se hará más fácil completar esta guía.

Formas del relieve

Recuerda que el **relieve** es el conjunto de formas y alturas que están presentes en el paisaje, y son una parte importante de él. Algunas formas de relieve son las montañas, los volcanes, los cerros, las cordilleras, las planicies costeras y los valles.


1. Dibuja o pega recortes en tu cuaderno, de las formas de relieve que se describen a continuación.

Volcán. Es una abertura que hay en la tierra, generalmente en una montaña, por la cual pueden salir humo, llamas y materias encendidas o derretidas.





Planicie costera. Es un terreno plano que se encuentra cercano a la costa.

Cordillera. Es un conjunto de montañas, enlazadas entre sí, que forman una especie de cadena.






Valle. Es un terreno plano que se encuentra entre cerros o montañas, en el cual, por lo general, atraviesa un río.



Montañas. Son grandes elevaciones que se producen en el terreno de manera natural.

Cerros. Son elevaciones que se producen en el terreno, pero de menor altura que las montañas



2. Responde.

- ¿En qué se diferencian los **valles** de las **planicies costeras**?

- ¿En qué se diferencian las **montañas** de la **cordillera**?
