



Taller "sistemas del Cuerpo Humano"
(Digestivo, circulatorio, respiratorio, excretor)

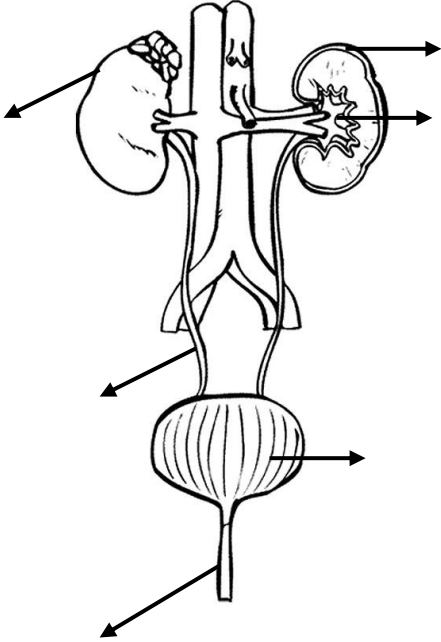
CURSO: 8 año 2020.

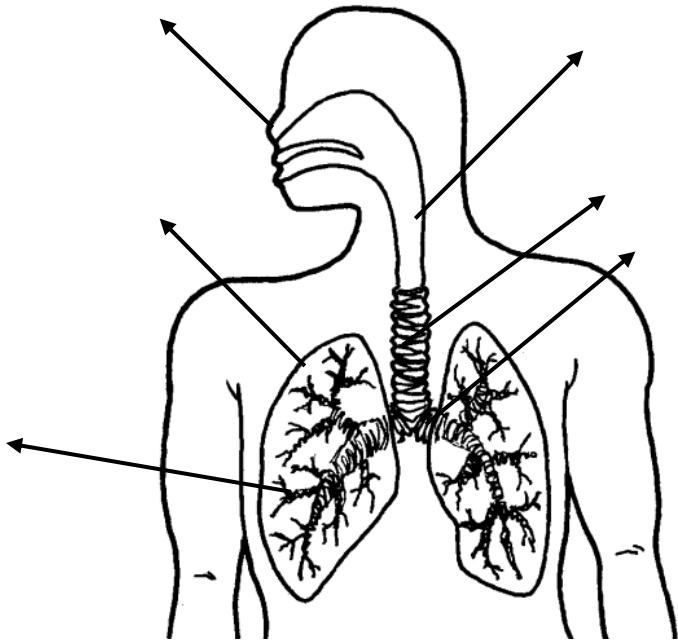
OA 5: - Identificar los sistemas orgánicos y la función que cumple dentro del cuerpo humano.

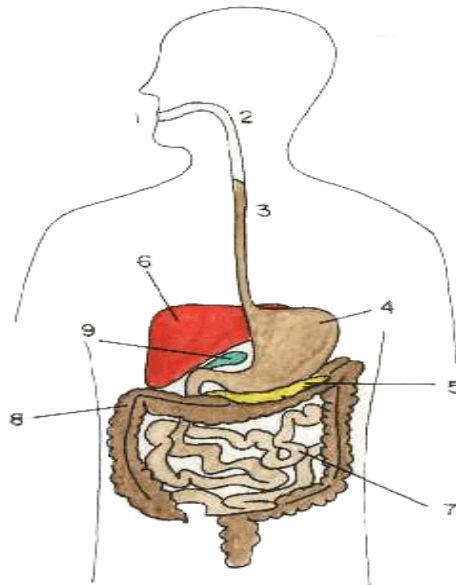
Habilidades del pensamiento: Conocimiento, Comprensión y Aplicación.

Fecha: semana del 13 de Julio al 17 del 2020

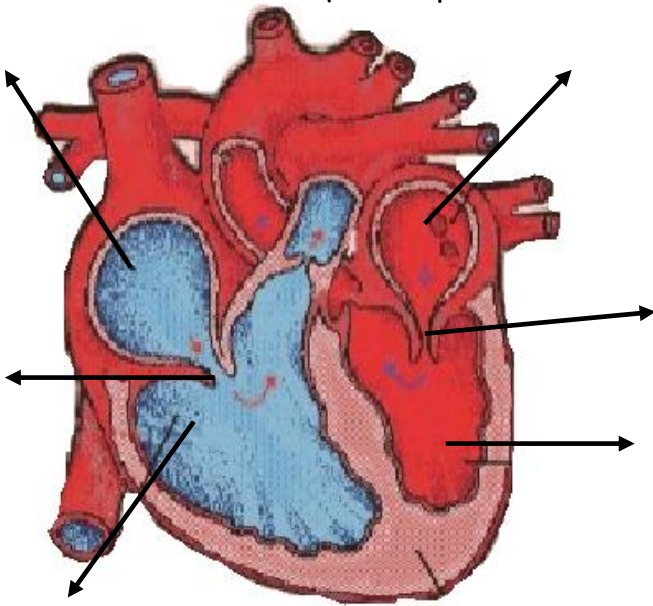
I.- Rotulación de imagen: Escribe frente a cada flecha el nombre del órgano que corresponda. En la línea punteada escribe el nombre del sistema y la función principal.



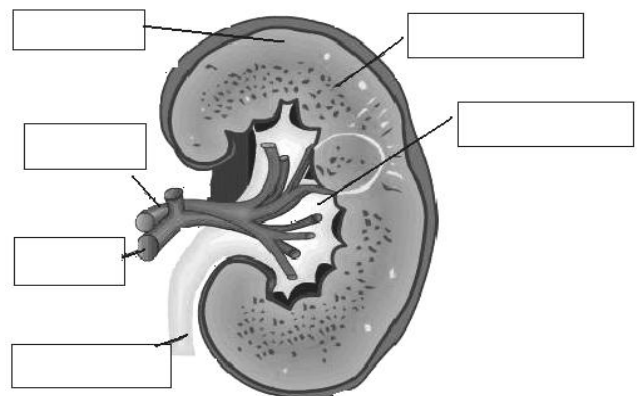
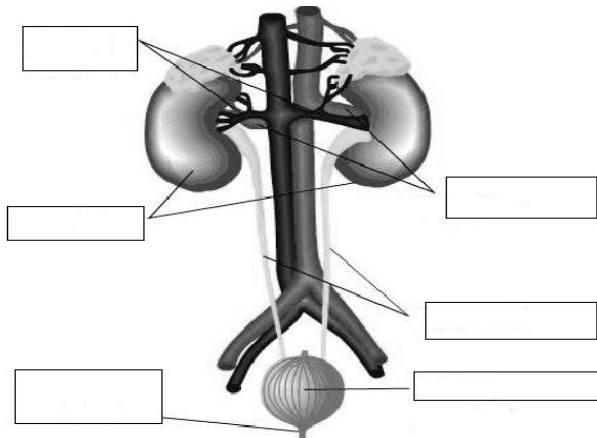




2. Describe la función que cumple el corazón, sistema al que pertenece



3.- Completa el siguiente esquema con el nombre de las estructuras señaladas.



4. Sopa de letras, busca los conceptos y explica 4 de ellos.

R	X	L	B	E	G	A	L	R	Q
U	M	H	N	S	L	E	N	Y	P
R	Z	X	O	O	H	G	S	Z	S
E	O	H	R	F	X	N	A	O	B
T	U	U	F	A	P	I	N	A	R
E	R	T	E	G	U	R	G	E	O
R	Q	I	N	O	L	A	R	U	N
O	D	P	Ñ	N	M	L	E	Q	Q
I	A	Ñ	M	O	O	N	N	A	U
S	A	E	R	C	N	A	P	R	I
S	V	E	X	Y	E	E	E	T	O
C	C	Z	V	C	S	C	S	Q	S
W	N	O	Z	A	R	O	C	Y	J
U	F	U	R	E	T	R	A	H	Q
P	S	O	L	O	E	V	L	A	T

- ALVEOLOS
- BRONQUIOS
- CORAZON
- ESOFAGO
- LARINGE
- NEFRON
- PANCREAS
- PULMONES
- RIÑONES
- SANGRE
- TRAQUEA
- URETER
- URETRA