



**GUÍA DE ESTUDIO  
MATEMATICAS  
FICHA N° 37**


**CURSO: 1° A**

<b>Unidad: Nivel 1</b>
<b>Objetivo de aprendizaje:-</b> Demostrar que comprende la adición y la sustracción de números de 0 a 20 progresivamente de 0 a 5, de 6 a 10, de 11 a 20 con dos sumandos (OA 9)
<b>Contenido:</b> Adición y sustracción
<b>Habilidad:</b> Reconocer – comprender - aplicar
<b>Evaluación: Formativa:</b>
<b>Instrucciones: Modalidad de trabajo. Considera la más adecuada para Ud.</b> a) Descargar, imprimir, resolver y pegar en el cuaderno. b) Trabajar en el cuaderno el contenido indicando el número de ficha que se está trabajando.
<b>Fecha: Lunes 3 Agosto de 2020 .-</b>

**¡Estoy quitando!**

**1.-Realice las siguientes sustracciones  
(marca con una X para sacar elementos)**

a.- Tengo 20 lápices y regalo 7, me quedan:




Tengo \_\_\_\_\_ Sacamos \_\_\_\_\_ Me quedan \_\_\_\_\_

b.- Tengo 9 perritos y regalo 8, me quedan:



Tengo \_\_\_\_\_ Regalo \_\_\_\_\_ Me quedan \_\_\_\_\_


c.-Hay 16 niños en el patio, si 10 entran a clases, ¿Cuántos quedan en recreo?



Hay \_\_\_\_\_ Entran a clases \_\_\_\_\_ Quedan \_\_\_\_\_

2.- Responde las siguientes preguntas.

a.- En un corral hay 20 ovejas. Pinta 12 de ellas.



¿Cuántas ovejas quedan sin pintar? \_\_\_\_\_

b.- Camila está juntando caracoles. Tenía 11 y encontró 8 más.



¿Cuántos caracoles tiene en total? \_\_\_\_\_ Dibuja los que faltan.

c.- Constanza tiene 6 gatos y nacieron 6 más.-



¿Cuántos gatos tiene ahora? \_\_\_\_\_ Dibuja los que faltan y píntelos.

3.- Refuerzo con tus actividades del libro de matemáticas en adiciones y sustracciones. Desde la página 43 a la 45 de tu libro.

**Trabaja en la medida que puedas y siempre con responsabilidad.**

