



**GUÍA DE ESTUDIO
MATEMATICAS
FICHA N° 42**

CURSO: 1° A

Unidad N° 1	Fecha: Miércoles 2-9-2020
Objetivo de aprendizaje: Describir la posición de objetos y personas en relación a sí mismos y a otros objetos y personas, usando un lenguaje común (como derecha e izquierda). (OA13)	
Contenido: Ubicación espacial.	
Habilidad: Comprender- aplicar	
Evaluación: Formativa:	
Instrucciones: Modalidad de trabajo. Considera la más adecuada para Ud. a) Descargar, imprimir, resolver y pegar en el cuaderno. b) Trabajar en el cuaderno el contenido indicando el número de ficha que se está trabajando. c) Puedes retirar el material en tu escuela.	
NOMBRE :	CURSO:

“Ubicación espacial”

Posiciones en relación a ti mismo.

Observa y responde



1.- Si la silueta en la imagen eres tú y estás mirando la casa, dibuja los objetos según corresponda.

Arriba de ti

A un lado de ti


Delante de ti


APRENDE


Las palabras izquierda, derecha, arriba, abajo, delante y atrás ayudan a indicar la posición donde se ubica una persona, animal o cosa respecto de ti.



Por ejemplo:

El  está arriba de ti.

El  está a tu izquierda.

La  está delante de ti.

Resuelve:

2.- Recorta las imágenes que están al final de la guía y pega los elementos donde se indica.

a. La  está a tu derecha.

b. El  está a tu izquierda.

c. El  está delante de ti.



**“FELICITACIONES POR TU COMPROMISO
CON TUS ESTUDIOS Y CON TU ESCUELA”**



