



**GUÍA DE ESTUDIO
MATEMATICAS
FICHA N° 42**

CURSO: 1° A

Unidad: Nivel 1	Fecha: Lunes 19 Octubre de 2020 .-
Objetivo de aprendizaje:- Demostrar que comprende la adición y la sustracción de números de 0 a 20 progresivamente de 0 a 5, de 6 a 10, de 11 a 20 con dos sumandos (OA 9)	
Contenido: Adición y sustracción	
Habilidad: Reconocer – comprender - aplicar	
Evaluación: Formativa:	
Instrucciones: Modalidad de trabajo. Considera la más adecuada para Ud.	
a) Descargar, imprimir, resolver y pegar en el cuaderno. b) Trabajar en el cuaderno el contenido indicando el número de ficha que se está trabajando. c) Recuerda que puedes retirar el material en la escuela.	
Nombre:	curso:

“Acciones de avanzar o retroceder”

Observa y responde




¿En qué casillero se encuentra cada ficha?

Escribe el número




¿Cuántos casilleros debe avanzar

para alcanzar a




¿Cuántos casilleros debe retroceder

Para llegar al casillero de




Aprende

Al **avanzar**, se **suma**. **Avanzar** se relaciona con la **adición**.



$2 + 5 = 7$

Al **retroceder**, se **resta**. **Retroceder** se relaciona con la



$7 - 5 = 2$

Refuerza con tu cuadernillo de trabajo ejercicios 20,21,22 y 23 sumar. Trabaja en la medida que puedas y siempre con responsabilidad.

