






TRANSICIÓN I

Nombre:	Fecha
Unidad:	Educadora: Ana Conrtreas Olave



 = <input type="text"/>	 = <input type="text"/>	 = <input type="text"/>	 = <input type="text"/>
 = <input type="text"/>	 = <input type="text"/>	 = <input type="text"/>	 = <input type="text"/>

2

 <input type="text"/>	 <input type="text"/>
--	---

Asociar número y cantidad hasta el 9

1. Don Juanito necesita saber la cantidad de dulces que tiene en su almacén. Ayúdalo, contando cada grupo de dulces. Escribe el resultado en las etiquetas que corresponden.
2. Cuenta los elementos de cada conjunto y escribe el número en el recuadro.