




GUÍA DE ESTUDIO MATEMATICAS FICHA N° 47

CURSO: 1° A

Unidad N° 1	Fecha: Miércoles 16-11-2020
Objetivo de aprendizaje: -Identificar en el entorno figuras 3D y figuras 2D y relacionarlas, usando material concreto. (OA 14)	
Contenido: LÍNEAS, FIGURAS Y CUERPOS	
Habilidad: Observar, reconocer, relacionar, analizar.	
Evaluación: Formativa:	
Instrucciones: Modalidad de trabajo. Considera la más adecuada para Ud. a) Descargar, imprimir, resolver y pegar en el cuaderno. b) Trabajar en el cuaderno el contenido indicando el número de ficha que se está trabajando. c) Puedes retirar el material en tu escuela.	
NOMBRE :	CURSO:

FIGURAS GEOMÉTRICAS

Observa y responde:



- ¿Qué parte del tren está formada solo por líneas curvas? Píntalas con 🍷.
- ¿Qué parte del tren está formada solo por líneas rectas? Píntalas con 🍷.
- ¿A qué figura geométrica se asemeja la chimenea del tren? Enciérrala.



Aprende

Las figuras geométricas tienen 2 dimensiones y se pueden dibujar usando líneas rectas v curvas.-

Figuras geométricas con líneas rectas

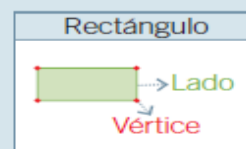
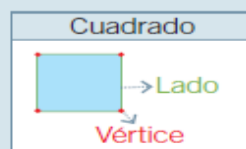
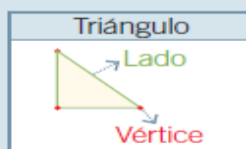
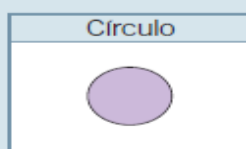
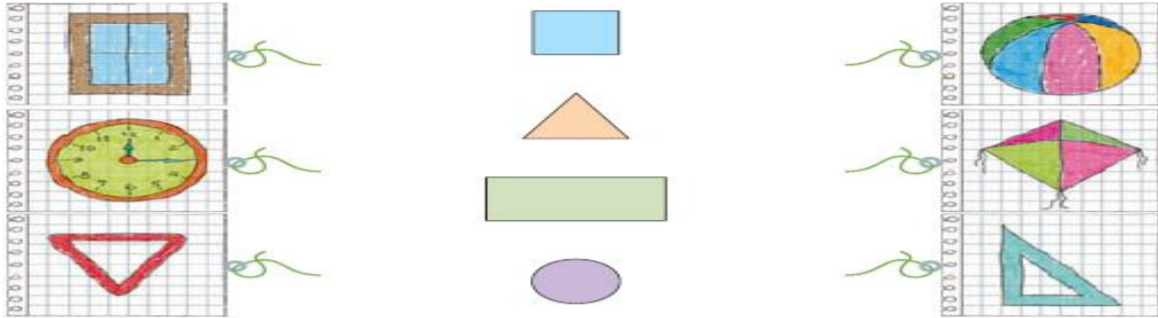


Figura geométrica con líneas curvas




¡Vamos a practicar!


1.- Une cada dibujo con al figura geométrica a la que se asemeja.

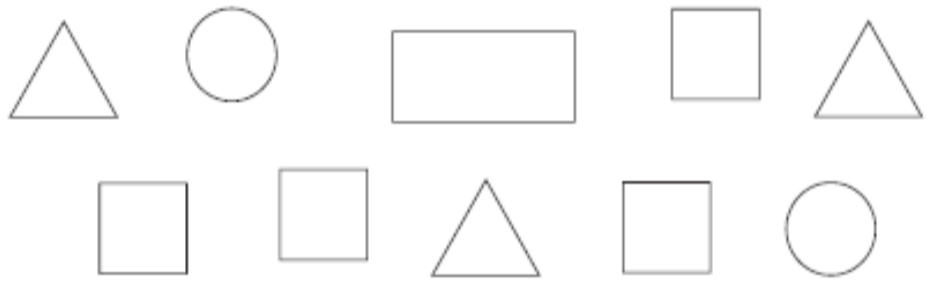


2.- Pinta las figuras geométricas según las claves.

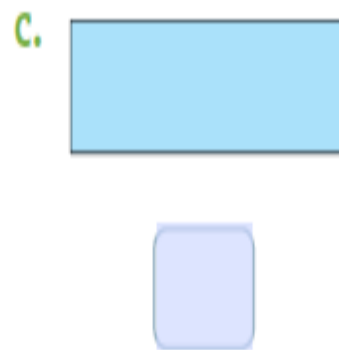
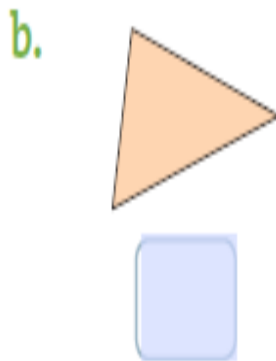
 Círculos

 Triángulos

 Cuadrados



3.- Remarca los vértices de cada figura geométrica. Luego, cuéntalos y escríbenlos en el cuadro.





CUERPOS GEOMÉTRICOS


Observa y responde



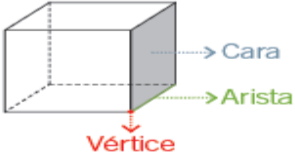
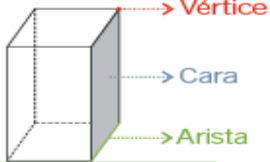
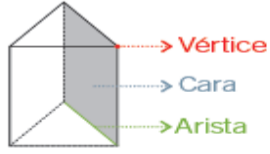
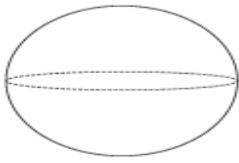
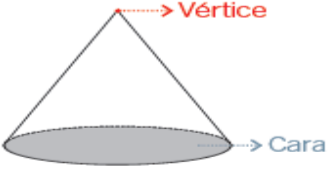
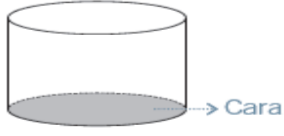
-Utiliza el recortable 1 que está al final de la guía y pega la imagen para responder.

-¿Qué objeto tiene forma de  ?

-¿Qué objeto tiene forma de  ?

¿Qué objeto tiene forma de  ?

Los cuerpos geométricos tienen 3 dimensiones. Se puede encontrar en el entorno objetos que se asemejan a los cuerpos geométricos.

<p>Cubo</p> 	<p>Paralelepípedo</p> 	<p>Prisma triangular</p> 
<p>Esfera</p> 	<p>Cono</p> 	<p>Cilindro</p> 

¡Estoy trabajando!

1.- Utiliza la pegatina 2 que está al final de la guía y pega los objetos según el cuerpo geométrico al que se asemeja.

a) Cubo



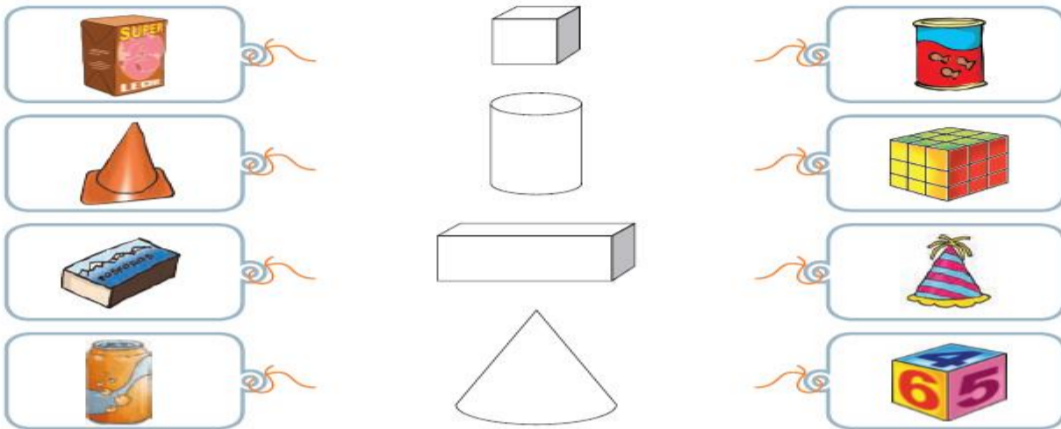
b) Esfera



c) Cono





2.- Une cada objeto con el cuerpo geométrico al que se asemeja.

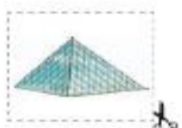


RECORTABLE 1

Forma de



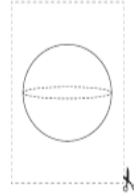
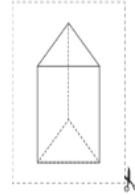
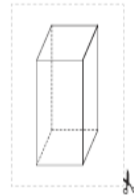
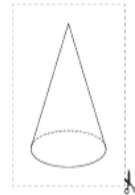
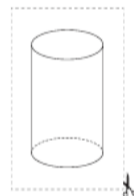
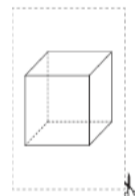
Forma de



Forma de



RECORTABLE 2



“FELICITACIONES POR TU COMPROMISO CON TUS ESTUDIOS Y CON TU ESCUELA”

